






Lass uns schauen, wer mehr oder weniger hat. Und was zusammen gehört!




Bei wem sind mehr Spielzeugautos, bei LISA oder bei TOM?



- 
- 



Bei wem sind mehr Busse, bei LISA oder bei TOM?





- LISA
- TOM





Bei wem sind mehr Lastautos, bei LISA oder bei TOM?



- LISA
- TOM




Wie viele kleine Tiere siehst du?

Mit klein meinen wir, klein im "echten" Leben.



Wie viele große Tiere siehst du?

Mit groß meinen wir, groß im "echten" Leben.





Wie viele Tiere, die fliegen können, siehst du?




Wie viele Ohren fehlen in diesem Bild?



Wer hat höher gewürfelt?

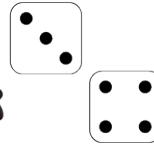

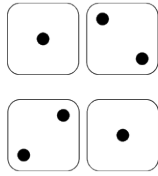


- Panda
- Löwe





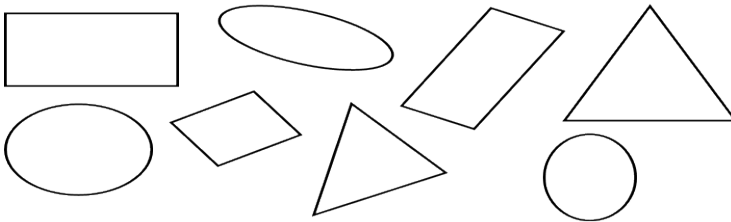
Wer hat mehr Würfel gespielt?




- Löwe
- Panda



Wie viele runde Figuren sind in dem Bild?




Wie viele eckige Figuren sind in dem Bild?



- 5
- 3
- 6
- 4



Wie viele Dreiecke sind in dem Bild?



Bildnachweise:

Kinder in Illustration: © Pétrouche - stock.adobe.com

Autos in Illustration: © rosinka - stock.adobe.com

Große Tiere in Illustration: © Graphics101 - stock.adobe.com

Kleine Tiere in Illustration: © djvstock - stock.adobe.com

Körperteile in Illustration: © rubynurbaidi - stock.adobe.com