

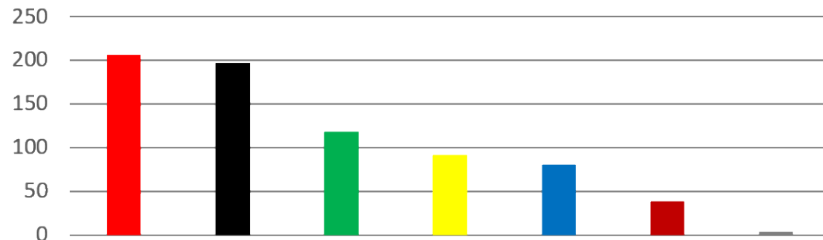


Diagramme und Schaubilder richtig lesen und verstehen.



Bundestag

Welche Fraktion hat **118** Sitze im Bundestag?

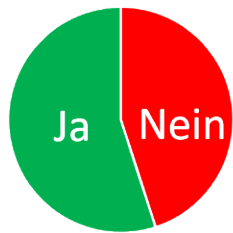


- die Rote
- die Schwarze
- die Grüne



Umfrage

In einer Umfrage wurden 100 Kinder gefragt: "Sollen die Schulferien um eine Woche verlängert werden, JA oder NEIN?"



- 55 Kinder meinen NEIN
- 55 Kinder meinen JA
- 85 Kinder meinen JA



Wetterbericht im Internet

An welchem Tag wird es am wärmsten?



- Dienstag (Di.)
- Mittwoch (Mi.)
- Montag (Mo.)
- Donnerstag (Do.)

**Wetterbericht im Internet**

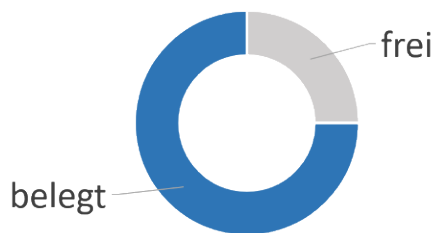
An welchem Tag erwarten wir Gewitter?



- Montag (Mo.)
- Mittwoch (Mi.)
- Dienstag (Di.)
- Sonntag (So.)

**Festplatte**


Dein Computer zeigt dir grafisch wie viel auf deiner **1 000 GB** Festplatte noch frei ist. Was schätzt du?



- 150 GB sind belegt
- 250 GB sind frei
- 750 GB sind frei

**24 Kinder wählen jeweils einen Shake.**

Schokolade, Erdbeere oder Kiwi? Der erste Balken steht für Schokolade, der zweite für Erdbeere und der dritte für Kiwi.



- Die Hälfte aller Kinder wählte Erdbeere.
- Die Hälfte aller Kinder wählte Schokolade.
- Die Hälfte aller Kinder wählte Kiwi.



Bildnachweise:

Screenshot "Wetter" - (c) google.com

"Shakes" - (c) GraphicsRF - stock.adobe.com / modified by Lerntrick