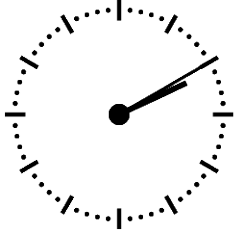




Lass uns herausfinden, wie spät es ist.




Es ist Nachmittag. Wie spät ist es?



- 16:10 Uhr
- 15:10 Uhr
- 14:10 Uhr
- 02:20 Uhr



Es ist Nachmittag. Wie spät ist es?

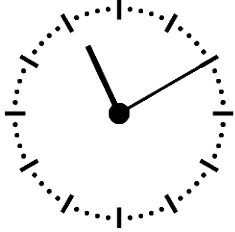


- 15:15 Uhr
- 14:15 Uhr
- 15:45 Uhr
- 13:45 Uhr





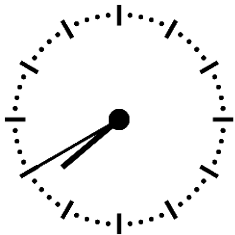
Es ist Vormittag. Wie spät ist es?



- 10:50 Uhr
- 11:15 Uhr
- 10:10 Uhr
- 11:10 Uhr






Es ist Abend. Wie spät ist es genau?



- 18:50 Uhr
- 19:20 Uhr
- 19:40 Uhr
- 20:40 Uhr



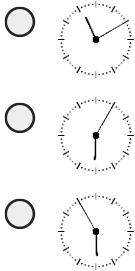
Es ist 14:45 Uhr. Welche analoge Uhr stimmt?

- 
- 
- 

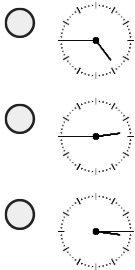




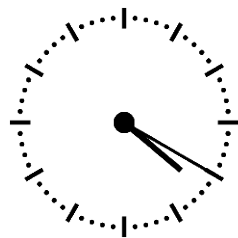
Es ist 05:55 Uhr. Welche analoge Uhr stimmt?



Es ist 16:45 Uhr. Welche analoge Uhr stimmt?



Es ist Nachmittag. Wie spät ist es?

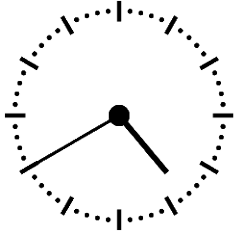


- 04:20 Uhr
- 15:50 Uhr
- 16:20 Uhr
- 16:10 Uhr





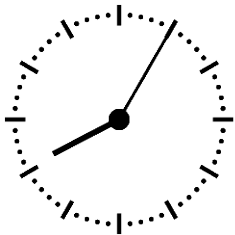
Es ist Nachmittag. Wie spät ist es?



- 15:40 Uhr
- 17:40 Uhr
- 16:20 Uhr
- 16:40 Uhr



Es ist Vormittag. Wie spät ist es?



- 08:15 Uhr
- 08:55 Uhr
- 09:05 Uhr
- 08:05 Uhr

Bildnachweise:

"Uhr" - WP-User: Micthev - CC BY-SA 3.0 - commons.wikimedia.org