



Halbieren wir Mengen



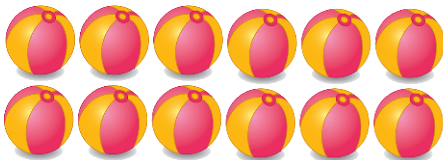
Du hast 10 Reifen. Wie viele Fahrrad-Rahmen ohne Reifen kannst du damit bestücken?



- 
- 
- 



Wenn wir die Hälfte der 12 Bälle weg nehmen. Wie viele Bälle bleiben übrig?






- 3
- 4
- 5
- 6





In welchem Bild ist eine Zahl genau die Hälfte von der anderen?


- 
- 
- 



Die Hälfte von 20 € sind _____ €?



Wir haben 28 Birnen-Hälften. Wie viele ganze Birnen waren es?



Die Hälfte von 14 ist _____ ?





Die Hälfte von 18 ist _____?



Die Hälfte von 30 ist?

- 14
- 15
- 13
- 12



Die Hälfte von 26 ist _____?



Die Hälfte von 24 ist?

- 13
- 11
- 10
- 12



Die Hälfte von 22 ist _____?



Bildnachweise:

"Räder" - ©brgfx - stock.adobe.com

"Bälle" - ©ARNICA - stock.adobe.com

"Ziffern" - ©Colorfuel Studio - stock.adobe.com

"Früchte" - ©brovkozerhii - stock.adobe.com