



Größer $>$, kleiner $<$, ist gleich $=$



Was stimmt?

- $20 = 20$
- $20 < 20$
- $20 > 20$



Was stimmt?

- $19 = 19$
- $19 > 19$
- $19 < 19$



1 + _____ = 20



11 + _____ = 20



16 + _____ = 20









18 + _____ = 20











Was stimmt?

-  = 
-  < 
-  > 



Was stimmt?

-  = 
-  < 
-  > 



Was meinst du?

- $20 > 19$
- $19 = 20$
- $19 > 20$



Was meinst du?

- $18 < 17$
- $17 < 19$
- $19 < 17$





$$14 + \underline{\hspace{2cm}} < 20$$

Hier gibt es mehr als eine richtige Antwort, such dir eine aus.



$$13 + \underline{\hspace{2cm}} < 18$$

Hier gibt es mehr als eine richtige Antwort, suche dir eine aus.



$$9 + \underline{\hspace{2cm}} < 12$$

Hier gibt es mehr als eine richtige Antwort, suche dir eine aus.



$$7 + \underline{\hspace{2cm}} < 13$$

Hier gibt es mehr als eine richtige Antwort, suche dir eine aus.



Bildnachweise:

(c) "Früchte" - ©brovkoserhii - stock.adobe.com