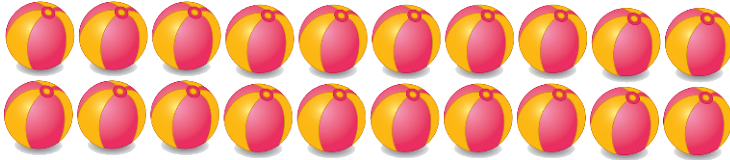





Finde heraus, wie viele Gegenstände sich in jedem Bild befinden.




Wie viele Bälle zählst du?



Wie viele Tischtennisschläger siehst du?



Wie viele Tischtennisschläger sind in dem Bild?



**# Zahlenrätsel**

Wir zählen vorwärts und rückwärts.

Finde die fehlende Zahl, und trage sie in das leere Feld ein!

11	12	13		15	16	17	18
13	14	15		17	18	19	20
20	19	18		16	15	14	13
15	14	13		11	10	9	8
16	17	18		20			
12	13	14		16	17	18	19
18	17	16		14	13	12	11
17	16	15		13	12	11	10
14	15	16		18	19	20	
14	13	12		10	9	8	7

Bildnachweise:

©brgfx - stock.adobe.com

©ARNICA - stock.adobe.com