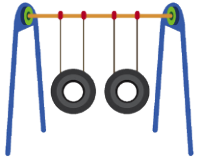




Lass uns herausfinden, welche Gegenstände symmetrisch sind und welche Spiegelbilder richtig sind.



**Sind die Schaukeln symmetrisch?**



- Ja, sie sind symmetrisch.
- Nein, sie sind nicht symmetrisch.



**Ist das Schlagzeug symmetrisch?**

Schau genau!



- Ja, es ist symmetrisch.
- Nein, es ist nicht symmetrisch.



**Ist das Fahrrad aus dieser Sicht symmetrisch?**






- Ja
- Nein





**Welche Spiegelung stimmt?**

- 
- 
- 



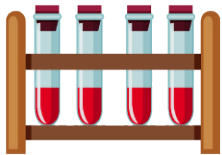
**Ist dieses Bild symmetrisch?**



- Ja
- Nein



**Ist dieses Bild symmetrisch?**



- Ja
- Nein

*Bildnachweise:*

© brgfx - stock.adobe.com